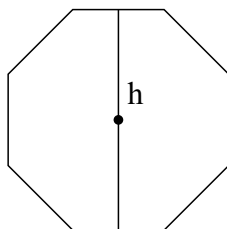


#75 - zad. 1

Ile wynosi odległość  $h$  pomiędzy przeciwległymi bokami ośmiokąta foremnego (zobacz rysunek), jeśli ośmiokąt ma bok 10 cm, a jego główna przekątna ma długość 24 cm?

- A. ok. 19 cm
- B. ok. 20 cm
- C. ok. 21 cm
- D. ok. 22 cm



#75 - zad. 2

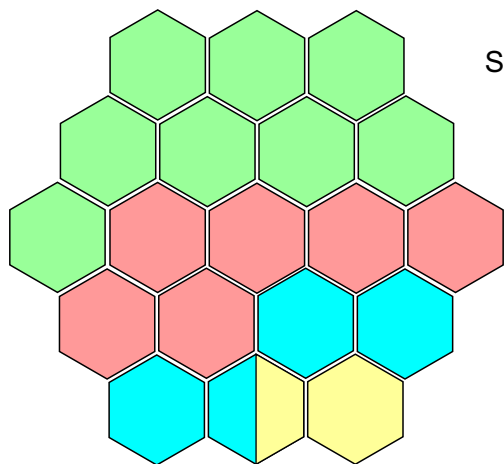
Rysunek pokazuje tworzenie kolejnych figur literowych - do każdej następnej dopisuje się z prawej strony kolejną literę, a z lewej jej odbicie symetryczne (jak skończy się alfabet, to dopisuje się znów litery od A). Ile będzie wszystkich liter w *Figurze 222*?

A                      BAB                      CBABC                      DCBABCDCBABCDCB                      EDCBABCDE                      ...  
*Figura 1*                      *Figura 2*                      *Figura 3*                      *Figura 4*                      *Figura 5*





#75 - zad. 3

Ile w miodzie jest wody?

- A. ok. 3,5%
- B. ok. 18%
- C. ok. 25%
- D. ok. 35%



Skład miodu (dane średnie)

-  Fruktaza
-  Glukoza
-  Woda
-  Enzymy, minerały, witaminy